

# POSZUKIWANIE WIOSNY



**KLASA 1A**





**21 MARCA**

W tym dniu  
wszystko się  
zaczyna.

1.  
Wiosenny  
spacer

2.  
Sadzenie

3.  
Moja  
wiosenna  
książeczka

4.  
Dekoracje



# 1. WIOSENNY SPACER



















# 2. SADZENIE....



Uczniowie klasy **1a** spróbowali swoich sił w sadzeniu cebuli.

Najpierw wysypali ziemię do doniczek,  
następnie zasadzili cebule i podlali wodą.


Wszystkie cebule uczniowie postawili na parapecie,  
aby słońce ładnie na nie świeciło,  
by mógł wyrosnąć przepiękny szczypiorek.



























# 3. MOJA WIOSENNA KSIĄŻECZKA



**„Moja wiosenna książeczka”  
zawiera najważniejsze  
informacje o pierwszej porze  
roku, jaką jest wiosna.  
Uczniowie wypełniali  
poszczególne karty z wielkim  
zaangażowaniem  
i przyjemnością 😊.**









### CO WIEM O KWIATACH?

**Części rośliny**

1 2 3 4

Czego potrzebuje roślina do życia?

### PORZĄDKI W OGRODZIE



Połącz ilustracje z właściwym zdaniem. Pokoloruj obrazek według opisu.


Alicja grabi trawę. Ma zieloną chustkę na głowie, niebieską kurtkę i różową spodniczkę.

Michał i Zosia postanowili posadzić brzozę. Dziewczynka ma na sobie dres w kolorze różowym i niebieskie kalosze. Michał ma zielony kapelusz, szarą bluzę, niebieskie spodnie i fioletowe kalosze.

Kazik podlewa sadzonkę. Jego konewka jest zielona, na środku narysowane jest słońce. Ma czerwone kalosze i czapkę z daszkiem. Bluza jest koloru szarego, a spodnie czarne.

Paulinka sadi kwiatki. Na głowie ma różową chustkę. Jej bluzka jest żółta, a spodniczka pomarańczowa.





WIOSENNE ZADANIA! SPRAWDZ CZY POTRAFISZ!

Mama posadziła w ogródku 12 naczyń, a Ala o 4 więcej. Ile naczyń posadziła Ala?

$12 + 4 = 16$

Kasia chce posadzić 14 nowych roślinek. Posadziła już 4. Ile jeszcze zostało jej kwiatków do posadzenia?

$14 - 4 = 10$

Ola narysowała 6 wiosennych obrazków. Kamil o 4 więcej, a Zosia tyle, ile Ola. Kimi razem ile obrazków narysował Kamil, a ile Zosia?

Ola:  $6 + 4 = 10$


Kamil:  $6 + 10 = 16$

Zosia:  $6 + 10 = 16$

Na gałęzi siedziało 16 ptaszków. Odleciało 4 z nich, a za chwilę przylądło 6 nowych. Ile ptaszków jest na gałęzi?

$16 - 4 = 12$

$12 + 6 = 18$







# 4. DEKORACJE....

Hiacynty










# MOZAIKA - WIOSENNE KWIATY







Dziękujemy

za uwagę



- uczniowie klasy 1a

